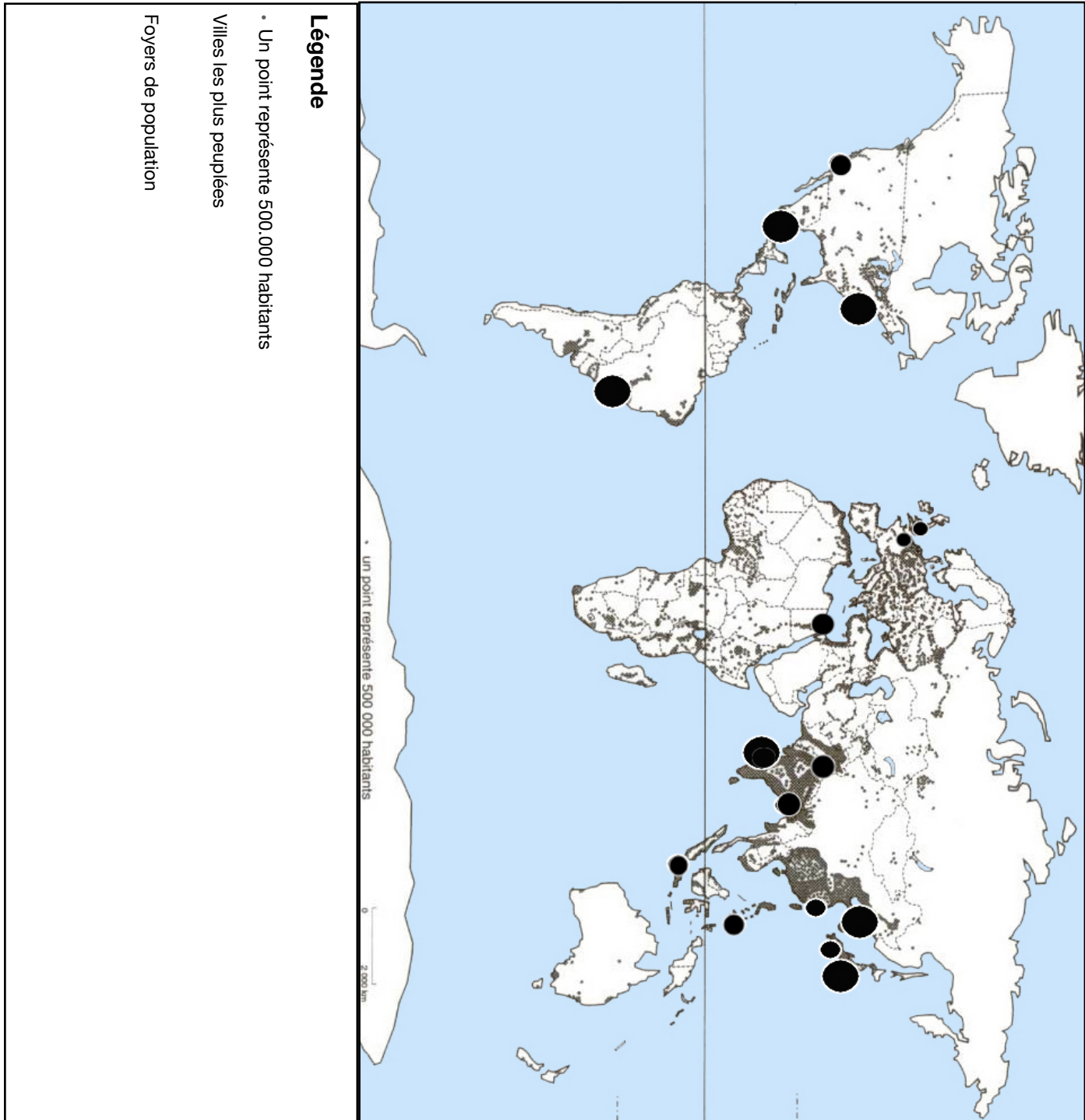


**1. Comment expliquer la concentration de la population mondiale ?**

TITRE : une population mondiale...



**FAISONS LE POINT**



Voir livre pages 228-229.





a) Combien d'habitants la Terre compte-t-elle ?





b) Comment a évolué la population mondiale depuis 1800 ? Justifiez votre réponse.

## FIL ROUGE : LE MONDE HABITÉ

-  c) Trouvez un adjectif pour qualifier la répartition de la population mondiale. Cet adjectif nous servira à compléter le titre du planisphère :
-  d) Recherchez la définition de **foyer de peuplement** et recopiez-la. Reproduisez ensuite dans la légende du planisphère le figuré choisi pour représenter les foyers de peuplement.


## EXPLIQUER


-  a) Comment la longue histoire de l'humanité peut-elle expliquer le peuplement de la Terre ? ==> Voir document projeté (carte sur le Néolithique sur le site histoire-géo)

-  b) Voir livre pages 240-241.

-  Répondez aux trois premières questions de la page 241.



-  Documents : la France vue du ciel la nuit + relief et cours d'eau en France

-  c) A l'aide du cours de géographie et de vos observations du document, essayez d'expliquer la répartition de la population en France.



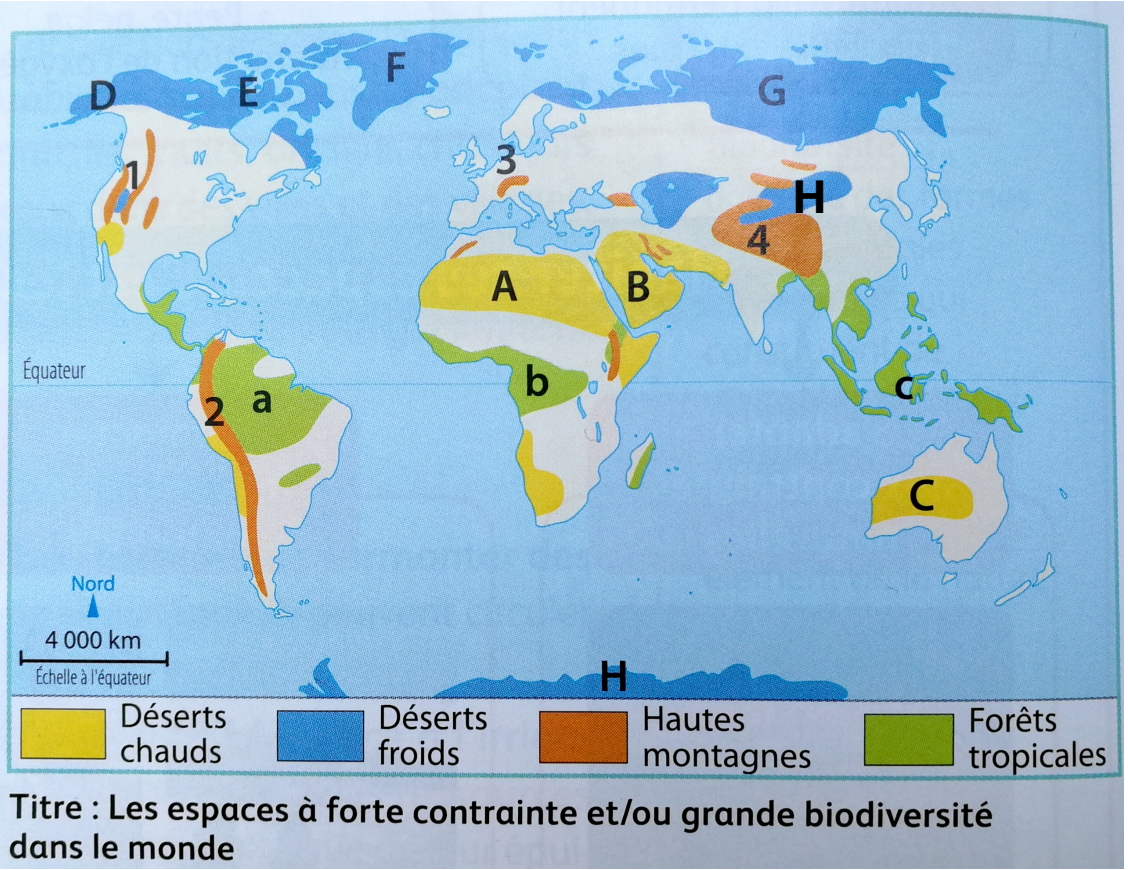
**FIL ROUGE : LE MONDE HABITÉ**

**2. Comment expliquer les espaces de faible densité à l'échelle mondiale ?**

**FAISONS LE POINT**



Complétez le tableau à l'aide du planisphère ci-contre



Types d'espaces de faible densité	Repères sur le planisphère	Nom de l'espace correspondant
	A	
	B	
	C	
	D	
	E	
	F	
	G	
	H	
	1	
	2	
	3	
	4	
	a	
	b	
	c	



Reportez sur le planisphère « Une population mondiale inégalement répartie » le nom des espaces peu denses. Pensez à compléter la légende.